

Ejercicio	1	2	3	4	5	6	Total
Puntos							

Departamento de Economía

Examen Final de Matemáticas I

21 de Enero de 2014

Duración del Examen: 2 horas.

APELLIDOS:

NOMBRE:

DNI:

Titulación:

Grupo:

(1) Sea la función $f(x) = \sqrt{25 + e^{2x}}$. Se pide:

- (a) Representar gráficamente la función, calculando previamente su dominio, imagen, sus intervalos de crecimiento y decrecimiento y las asíntotas de $f(x)$.
- (b) Halla la expresión analítica de $f^{-1}(x)$, indicando su dominio, imagen y asíntotas. Dibuja la gráfica de $f^{-1}(x)$.

1 punto

a) El dominio de la función anterior es el intervalo $(-\infty, \infty)$.

Por otro lado, como $f'(x) = \frac{2e^{2x}}{2\sqrt{25 + e^{2x}}}$, se deduce que f es creciente y continua en todo el dominio.

Además, como $\lim_{x \rightarrow -\infty} f(x) = 5$, $\lim_{x \rightarrow \infty} f(x) = \infty$, se deduce que su imagen es $(5, \infty)$ y que no tiene asíntotas verticales. Para calcular las asíntotas horizontales y oblicuas de f , es suficiente tener en cuenta $\lim_{x \rightarrow -\infty} f(x) = 5$, $\lim_{x \rightarrow \infty} \frac{f(x)}{x} = \infty$, luego la función tiene asíntota horizontal en $-\infty$ y no tiene asíntota en ∞ .

Por lo tanto, la gráfica de f tendrá un aspecto, aproximadamente, como muestra la figura más abajo.

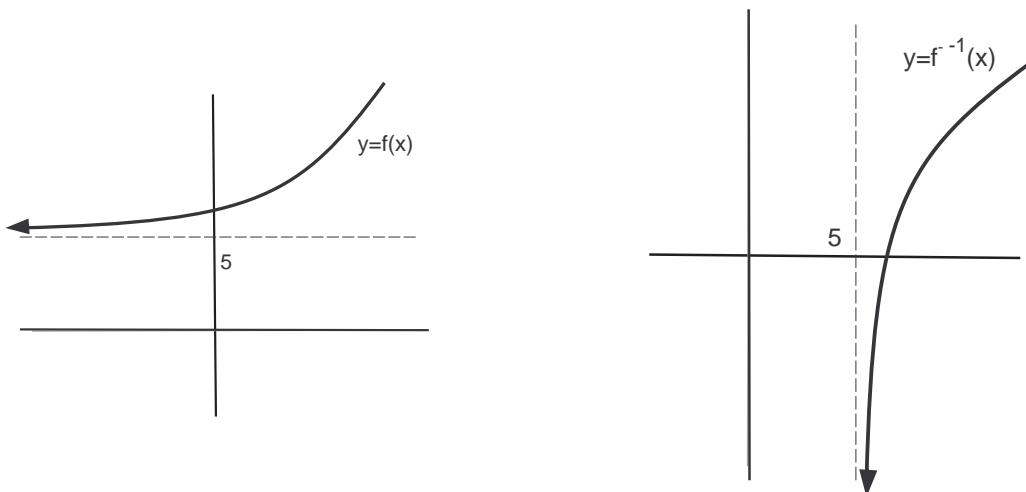
b) Consideremos la ecuación $y = \sqrt{25 + e^{2x}}$, donde $x \in \mathbb{R}$, $5 < y$. Entonces,

$$y = \sqrt{25 + e^{2x}} \iff y^2 = 25 + e^{2x} \iff y^2 - 25 = e^{2x} \iff \ln(y^2 - 25) = 2x \iff x = \frac{1}{2} \ln(y^2 - 25).$$

Luego $f^{-1}(x) = \frac{1}{2} \ln(x^2 - 25)$. El dominio de $f^{-1}(x)$ es $(5, \infty)$ y su imagen es \mathbb{R} .

Como la gráfica de $f^{-1}(x)$ es la simétrica de la gráfica de $f(x)$, $f^{-1}(x)$ es una función creciente, con asíntota vertical $x = 5$ a la derecha de 5, y que no tiene asíntota en ∞ .

Por lo tanto, la gráfica de f^{-1} será, aproximadamente como muestra la figura.



(2) Dada la función $y = f(x)$, definida de forma implícita mediante la ecuación $x + y^3 = x^3 + y$ en un entorno del punto $x = -1, y = 1$, se pide:

- (a) Hallar el polinomio de Taylor de segundo orden de $f(x)$, centrado en $a = -1$, y utilizarlo para obtener una aproximación del valor de $f(-0,9)$.
- (b) Calcular la ecuación de la recta tangente a f en el punto $x = -1$ y dibujar de forma aproximada la gráfica de f cerca del punto $x = -1$.

Sugerencia para b): para representar f solo es necesario hallar la recta tangente y utilizar el hecho de que $f''(-1) < 0$.

1 punto

a) En primer lugar, calculamos la derivada primera y segunda de la función:

$$1 + 3y^2y' = 3x^2 + y'$$

$$6y(y')^2 + 3y^2y'' = 6x + y''$$

A continuación, sustituimos en el punto $x = -1, y = 1$ y obtenemos que:

$$f(-1) = 1 \text{ (enunciado del problema), } f'(-1) = 1, f''(-1) = -6$$

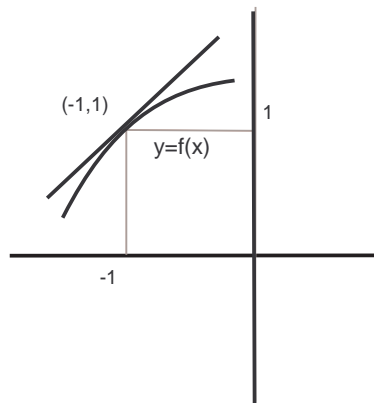
Luego el polinomio de Taylor de orden 2, centrado en $a = -1$, será:

$$P(x) = 1 + (x + 1) + \frac{(-6)}{2}(x + 1)^2.$$

Por lo tanto, tenemos que $f(-0,9) \approx P(-0,9) = 1 + 0,1 - 3(0,1)^2 = 1,07$.

b) La ecuación de la recta tangente será: $y = 2 + x$. Además, como $f''(-1) = -6 < 0$, la función f es cóncava cerca del punto $x = -1$.

Por lo tanto, la gráfica de f quedará debajo de la recta tangente y será, cerca del punto $x = -1$, aproximadamente así:



(3) Un agricultor vende 400 toneladas de arroz a 200 euros la tonelada. El agricultor calcula que sus ventas aumentarían en 100 toneladas si el precio disminuyera en 10 euros por tonelada. Se pide:

- (a) Hallar la función (inversa) de demanda y la función de ingresos marginales. Compararlas
 (b) Si los costes fijos de producir x toneladas son de C_0 euros y los costes marginales son constantes e iguales a 40, hallar los costes fijos sabiendo que, cuando la empresa produce la cantidad que da el máximo beneficio, el coste medio es de 50 euros.

Observación para a): se supone que la función (inversa) de demanda, $p = f(x)$ es lineal, es decir, $f(x) = ax + b$.

1 punto

a) Sea $p = ax + b$ la función inversa de demanda. Entonces:

i) $200 = 400a + b$, cuando el agricultor vende 400 toneladas a 200 euros la tonelada.

ii) $190 = 500a + b$, cuando el agricultor baja 10 euros el precio y aumenta en 100 toneladas las ventas.

Operando, se obtiene que $a = -\frac{1}{10}$, $b = 240$.

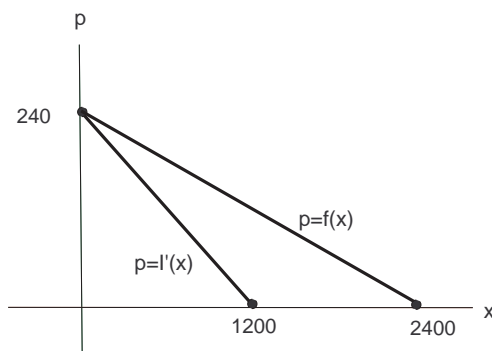
Por lo tanto, la función inversa de demanda es $p = -\frac{1}{10}x + 240$.

Análogamente, luego la función de ingresos será: $I(x) = -\frac{1}{10}x^2 + 240x$

Finalmente, la función de ingresos marginales será: $I'(x) = -\frac{1}{5}x + 240$

Como puede comprobarse, ambas rectas, la función inversa de demanda y la de ingresos marginales, parten del punto $(x=0, p=240)$ y son decrecientes, pero la función de ingresos marginales decrece más deprisa que la función inversa de demanda.

El gráfico siguiente ilustra la situación:



b) En primer lugar, la función de costes es $C(x) = 40x + C_0$.

Luego la función de beneficios será: $B(x) = I(x) - C(x) = -\frac{1}{10}x^2 + 200x - C_0$.

Como la función de beneficios es cóncava, pues $B''(x) = -\frac{1}{5} < 0$, el punto crítico, si existe, será el único maximizador global.

Así pues, $B'(x) = -\frac{1}{5}x + 200 = 0 \iff x = 1.000$.

Como los costes medios de producir 1000 toneladas han de ser de 50 euros, se cumple

$$\frac{C(1.000)}{1.000} = 40 + \frac{C_0}{1.000} = 50 \iff C_0 = 10.000$$

ANEXO SOLUCIONES PARA LOS PROBLEMAS 1, 2 Y 3

(4) Sea $f : [0, 3] \rightarrow \mathbb{R}$, continua en $[0, 3]$ y derivable en el intervalo $(0, 3)$, tal que $f(0) = 1$, $f(1) = 2$, $f(2) = 4$, $f(3) = 8$. Se pide:

(a) Enunciar el teorema del valor medio, o de Lagrange.

(b) Demostrar que existen $c_1 \in (0, 1)$ tal que $f'(c_1) = 1$ y $c_2 \in (2, 3)$ tal que $f'(c_2) = 4$.

1 punto

a) .

b) Aplicando el teorema del valor medio a f en el intervalo $[0, 1]$, se deduce la existencia de $c_1 \in (0, 1)$ tal que

$$f'(c_1) = \frac{f(1) - f(0)}{1 - 0} = 1.$$

Aplicando el teorema del valor medio a f en el intervalo $[2, 3]$, se deduce la existencia de $c_2 \in (2, 3)$ tal que

$$f'(c_2) = \frac{f(3) - f(2)}{3 - 2} = 4.$$

(5) Se considera el conjunto $A = \{(x, y) \in \mathbb{R}^2 : f(x) \leq y \leq g(x)\}$, siendo $f(x) = |x^2 - 1|$ y $g(x) = -2x^2 + 2$. Se pide:

- (a) Representar el conjunto A y hallar, si existen, los maximales y minimales, máximo y mínimo de A .
 (b) Calcular el área del recinto anterior.

Sugerencia: el orden de Pareto viene dado por: $(x_0, y_0) \leq_P (x_1, y_1) \iff x_0 \leq x_1, y_0 \leq y_1$.

1 punto

- a) Como $g(x) = -2(x^2 - 1) = 2(1 - x^2)$ y $f(x)$ puede definirse como una función a trozos de la siguiente forma:

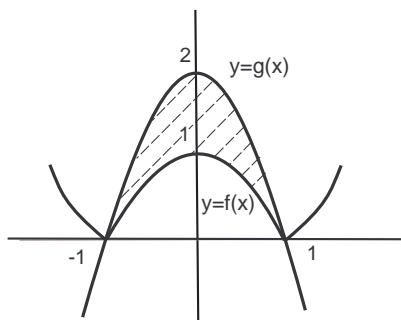
$$f(x) = \begin{cases} x^2 - 1, & \text{si } x \leq -1 \\ 1 - x^2, & \text{si } -1 \leq x \leq 1 \\ x^2 - 1, & \text{si } 1 \leq x \end{cases}$$

$f(x) = g(x)$ se cumple cuando $x = -1, x = 1$, en cuyo caso $f(-1) = g(-1) = f(1) = g(1) = 0$.

Obviamente, $x < -1$ o $x > 1 \implies g(x) < 0 < f(x)$, luego (x, y) no pertenece al conjunto A , para ningún y .

Por último, si $-1 \leq x \leq 1$, ambas funciones son parábolas cóncavas, simétricas respecto al eje vertical, al que cortan en los puntos $(0, 1)$ y $(0, 2)$.

Por lo tanto, el recinto tiene la siguiente forma:



Obviamente, $máximo(A)$ no existe, pues $\{\text{maximales}(A)\} = \{(x, g(x)) : 0 \leq x \leq 1\}$.

Sin embargo, $\{\text{mínimo}(A)\} = \{\text{minimales}(A)\} = \{(-1, 0)\}$.

- b) El área solicitada, utilizando la simetría respecto al eje vertical, es:

$$\begin{aligned} \int_{-1}^1 (g(x) - f(x)) dx &= 2 \int_0^1 [(-2x^2 + 2) - (1 - x^2)] dx = 2 \int_0^1 (-x^2 + 1) dx = 2 \left[-\frac{1}{3}x^3 + x \right]_0^1 = \\ &= 2 \left(-\frac{1}{3} + 1 \right) = \frac{4}{3} \text{ unids área.} \end{aligned}$$

(6) Dada la función $f(x) = \frac{\sqrt{x}}{1 + \sqrt{x}}$, se pide:

(a) Calcular, si existe, la primitiva $F(x)$ de dicha función que cumpla $F(1) = -1$.

(b) Hallar la ecuación de la recta tangente a la función $F(x)$, en $x = 4$.

Sugerencia para el apartado a): realizar el cambio de variable $x = t^2$.

1 punto

a) Si hacemos el cambio de variable $x = t^2 \implies \sqrt{x} = t, dx = 2t dt$, luego la integral indefinida de f es:

$$\begin{aligned}\int f(x) dx &= \int \frac{t}{1+t} 2t dt = 2 \int \frac{t^2}{1+t} dt = 2 \int \left(\frac{t^2-1}{t+1} + \frac{1}{1+t} \right) dt = \\ &= 2 \int \left(t-1 + \frac{1}{1+t} \right) dt = 2 \left(\frac{t^2}{2} - t + \ln(1+t) \right) + C = 2 \left(\frac{x}{2} - \sqrt{x} + \ln(1 + \sqrt{x}) \right) + C\end{aligned}$$

Por último, como $F(1) = -1 \implies 2 \left(\frac{1}{2} - 1 + \ln(2) \right) + C = -1 \implies C = -2 \ln 2 \implies$

$$F(x) = 2 \left(\frac{x}{2} - \sqrt{x} + \ln(1 + \sqrt{x}) - \ln 2 \right)$$

b) Por el teorema fundamental del cálculo se cumple que $F'(x) = f(x)$. Por tanto, se verifica que:

$$F'(4) = f(4) = \frac{2}{3}$$

$$\text{Por otro lado, } F(4) = 2 \left(\frac{4}{2} - \sqrt{4} + \ln(1 + \sqrt{4}) - \ln 2 \right) = 2(\ln 3 - \ln 2) = \ln \frac{9}{4}$$

Así pues, la ecuación de la recta tangente es $y - F(4) = F'(4)(x - 4)$, es decir

$$y - \ln \frac{9}{4} = \frac{2}{3}(x - 4).$$

ANEXO SOLUCIONES PARA LOS PROBLEMAS 4, 5 Y 6